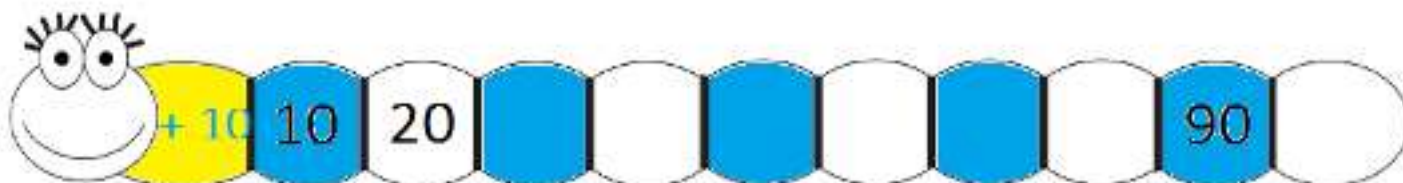
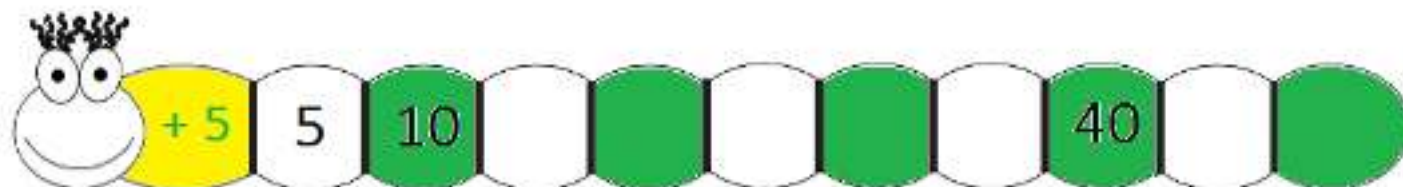



Les Nombres Divisibles par 2, 5 et 10



Activité

Compléter chaque série en ajoutant le nombre **en jaune**.



* Regarder le chiffre des unités des multiples de **2**, puis compléter l'énoncée:

« Les multiples de **2** se terminent par: ; ; ; OU »

Ces sont les nombres **pairs**.

* Regarder le chiffre des unités des multiples de **5**, puis compléter l'énoncée:

« Les multiples de **5** se terminent par: OU »

* Regarder le chiffre des unités des multiples de **10**, puis compléter l'énoncée:

« Les multiples de **10** se terminent par »