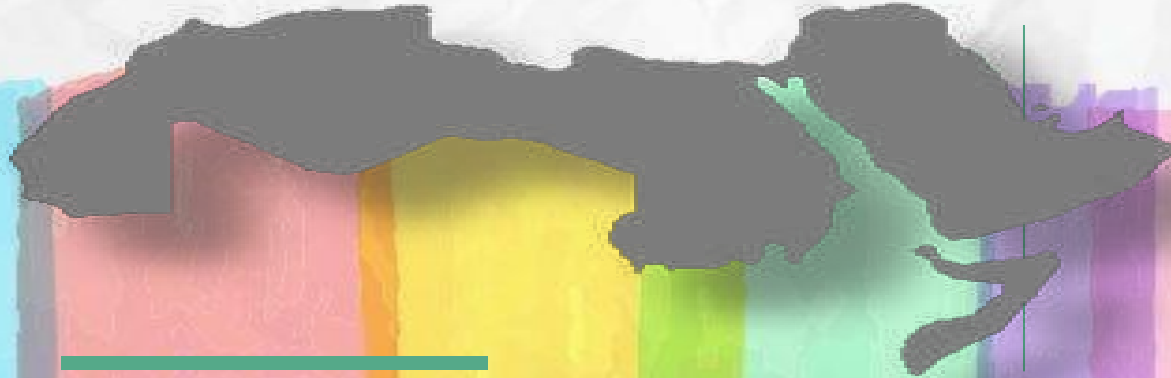


الصف : الثاني ثانوي

الوطن العربي

الموقع الفلكي
والجغرافي
وأهميته
الاستراتيجية



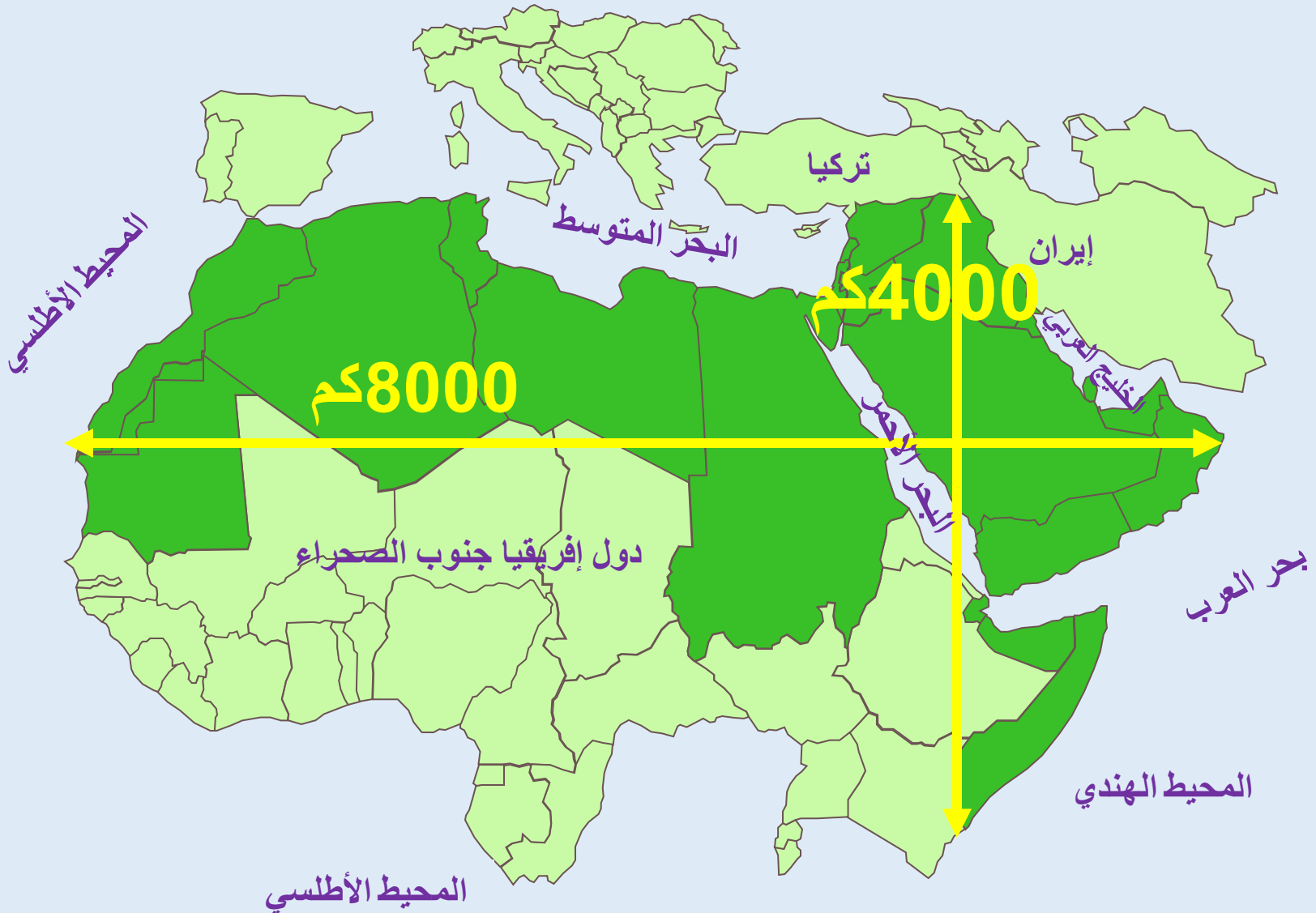
إعداد : فادي شحادة

الاشكالية :

يقصد بالوطن العربي تلك المساحة من الأرض التي تقع في جنوب غربي آسيا وشمالي أفريقيا , ويدين سكانه بالدين الإسلامي ويتكلمون اللغة العربية , وتنظم دوله في جامعة الدول العربية ويربطها تاريخ وثقافة ولغة ودين مشترك .

تتفاوت مناطق العالم من حيث الأهمية بحيث هناك مواقع هامشية و أخرى وسطية و ربما مركزية . أين يقع العالم العربي جغرافياً و فلكياً ؟ ما هي الأهمية المترتبة على هذا الموقع من الناحيتين الاقتصادية و الاستراتيجية ؟ كيف انعكس هذا الموقع سلباً على الدول العربية ؟

أبعاد العالم العربي و حدوده



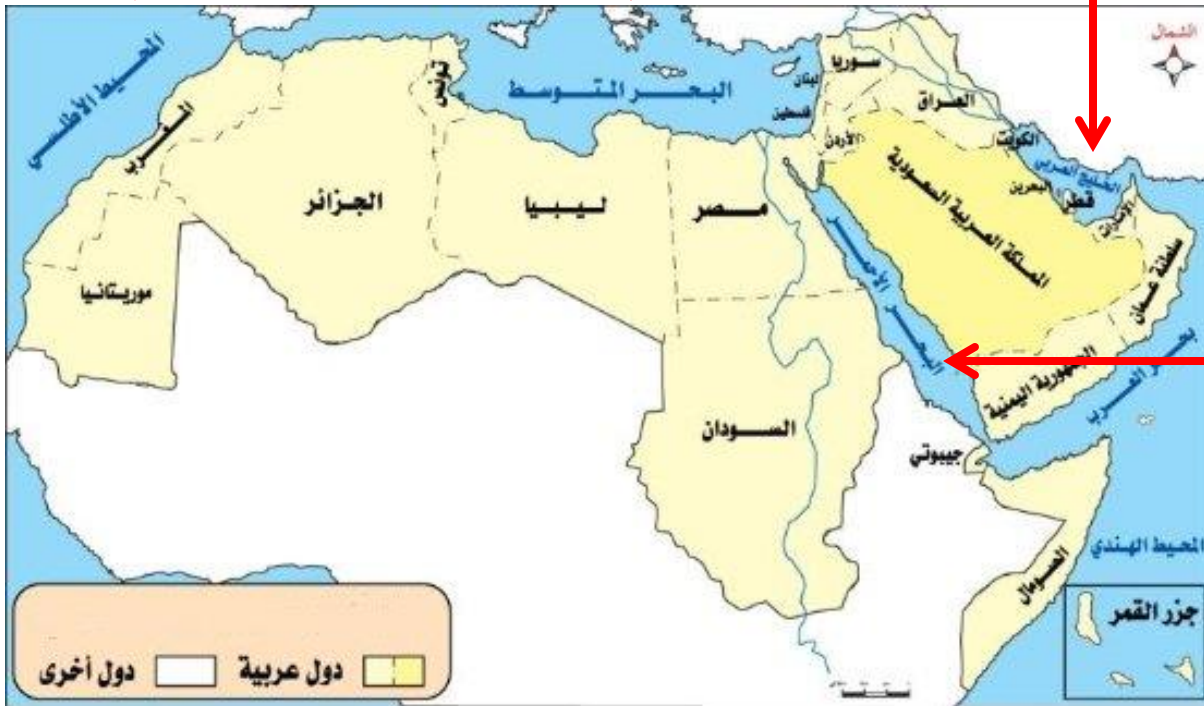
الموقع الجغرافي للوطن العربي



المحيط الأطلسي

البحر المتوسط

الخليج العربي



البحر الأحمر

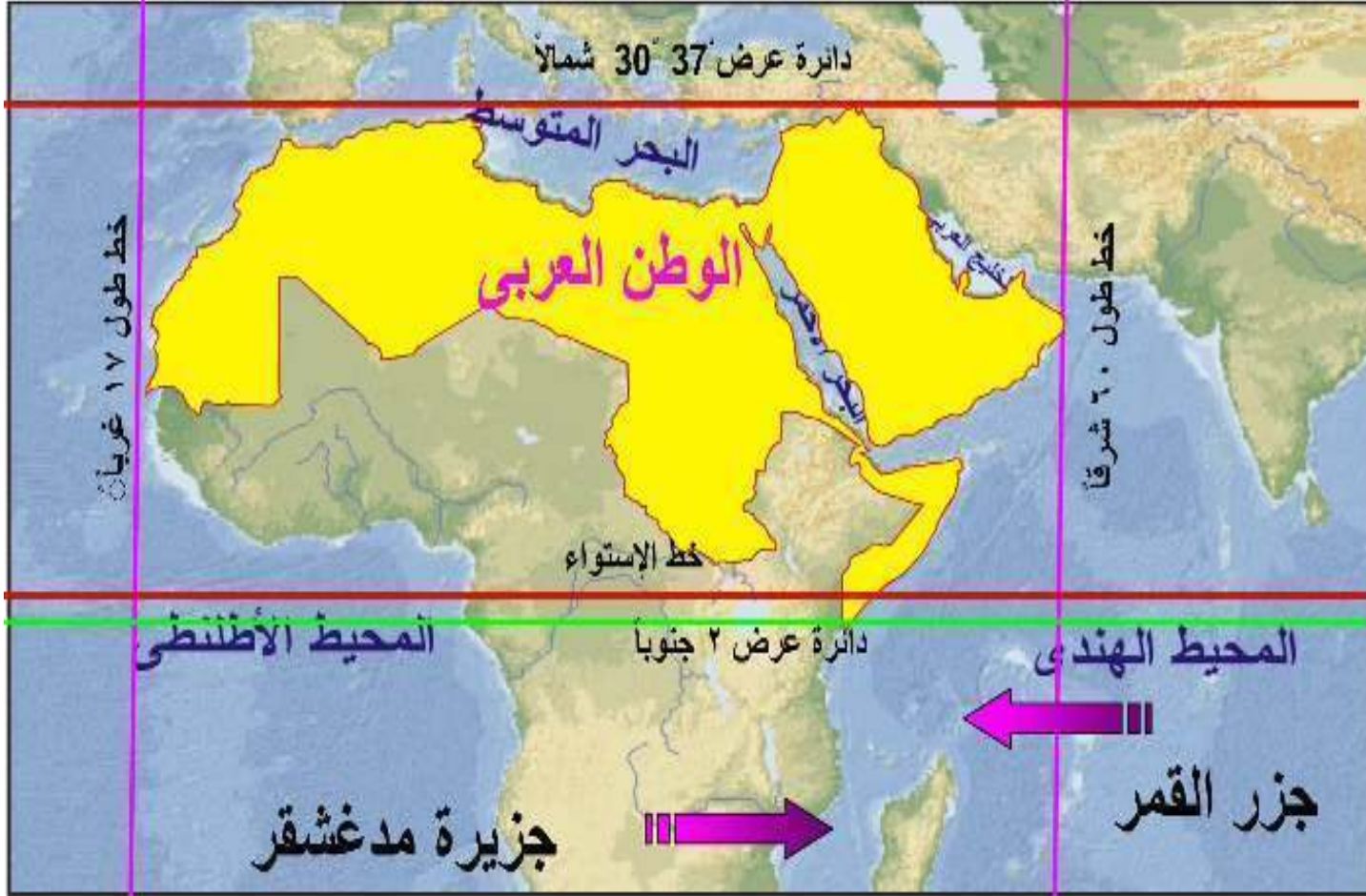
المحيط الهندي

الأهمية الاستراتيجية
لموقع الوطن العربي

- يطل على مسطحات مائية هامة
- المحيط الأطلسي
- البحر المتوسط
- البحر الأحمر
- الخليج العربي
- المحيط الهندي



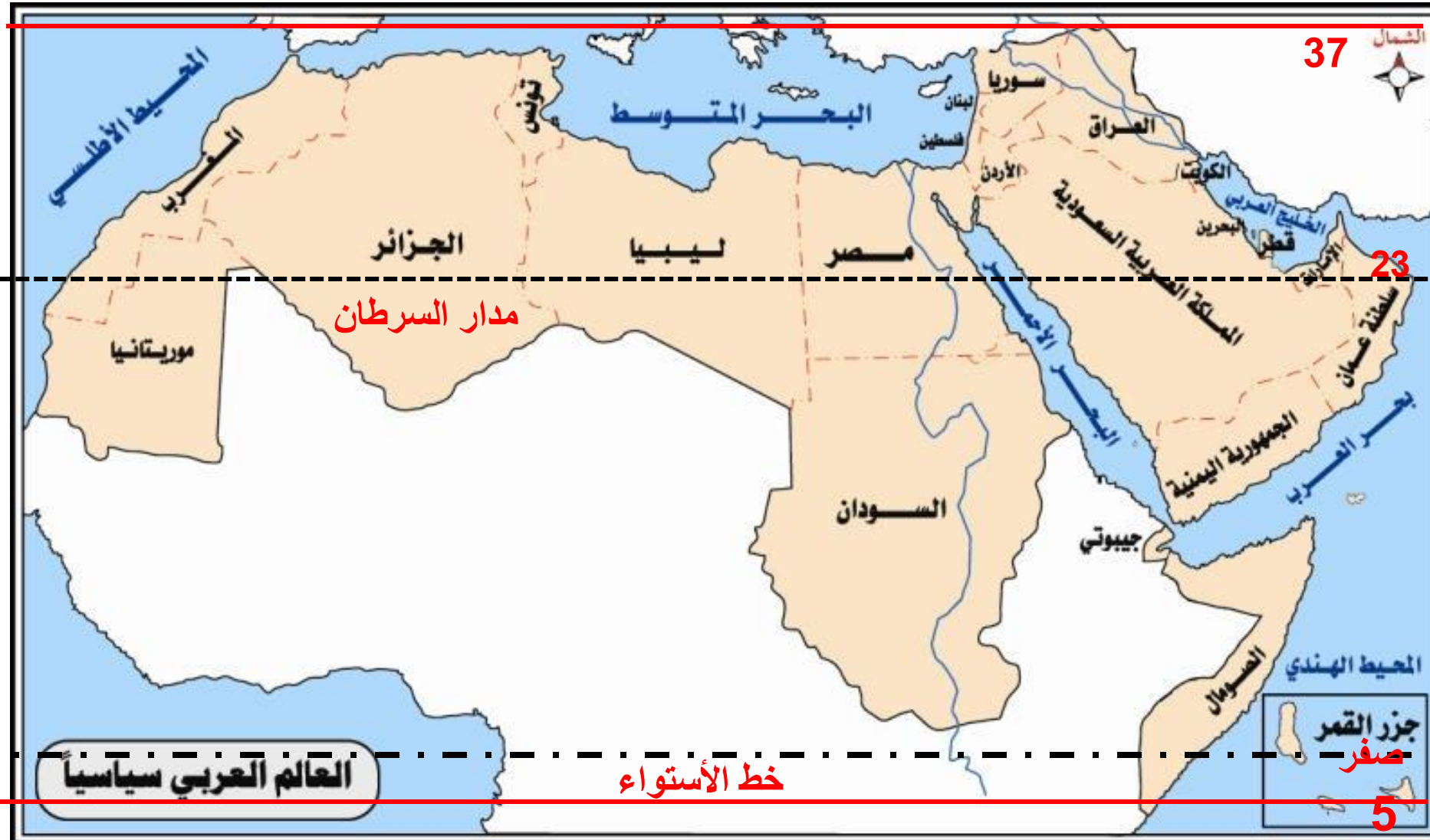
الموقع الفلكي للوطن العربي



□ يمتد بين خطي طول
17 غرباً و60 شرقاً
77 خط طول .

□ يمتد بين دائرتي
عرض 2 جنوباً و37,5
شمالاً
39,5 دائرة عرض





37



23

5

العالم العربي سياسياً

خط الأستواء

الموقع الجغرافي للوطن العربي



الأهمية الاستراتيجية
لموقع الوطن العربي

□ يتوسط العالم ، ويمثل
حلقة اتصال رئيسة
تربط قارات العالم
القديمة الثلاث



الاستنتاج :

تبلغ مساحة العالم العربي حوالي 13.5 مليون كلم² ، .

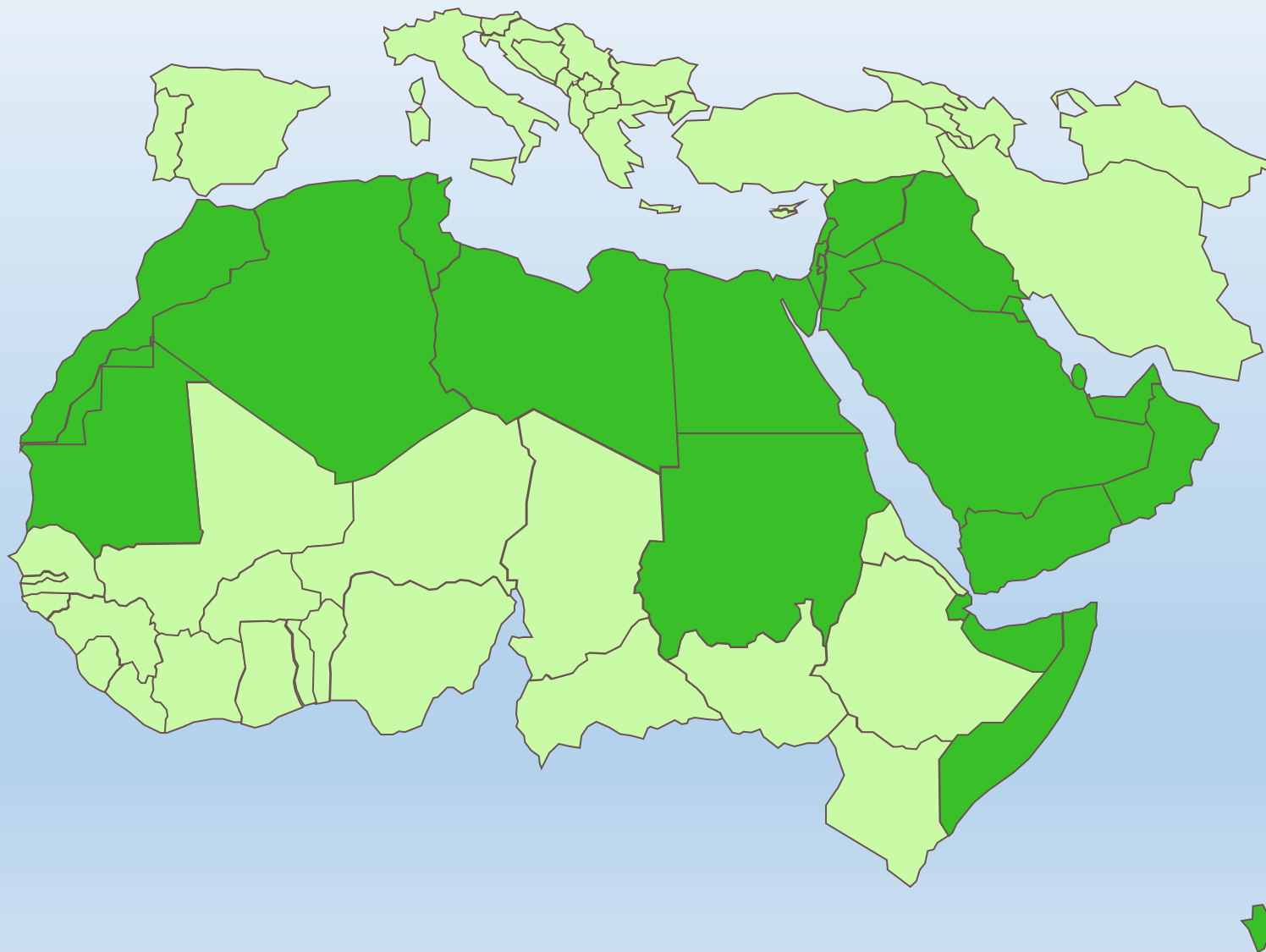
الموقع الجغرافي :

يقع العالم العربي في وسط القارات ، و تمتد أراضيه على شمال إفريقيا و جنوب غرب آسيا .

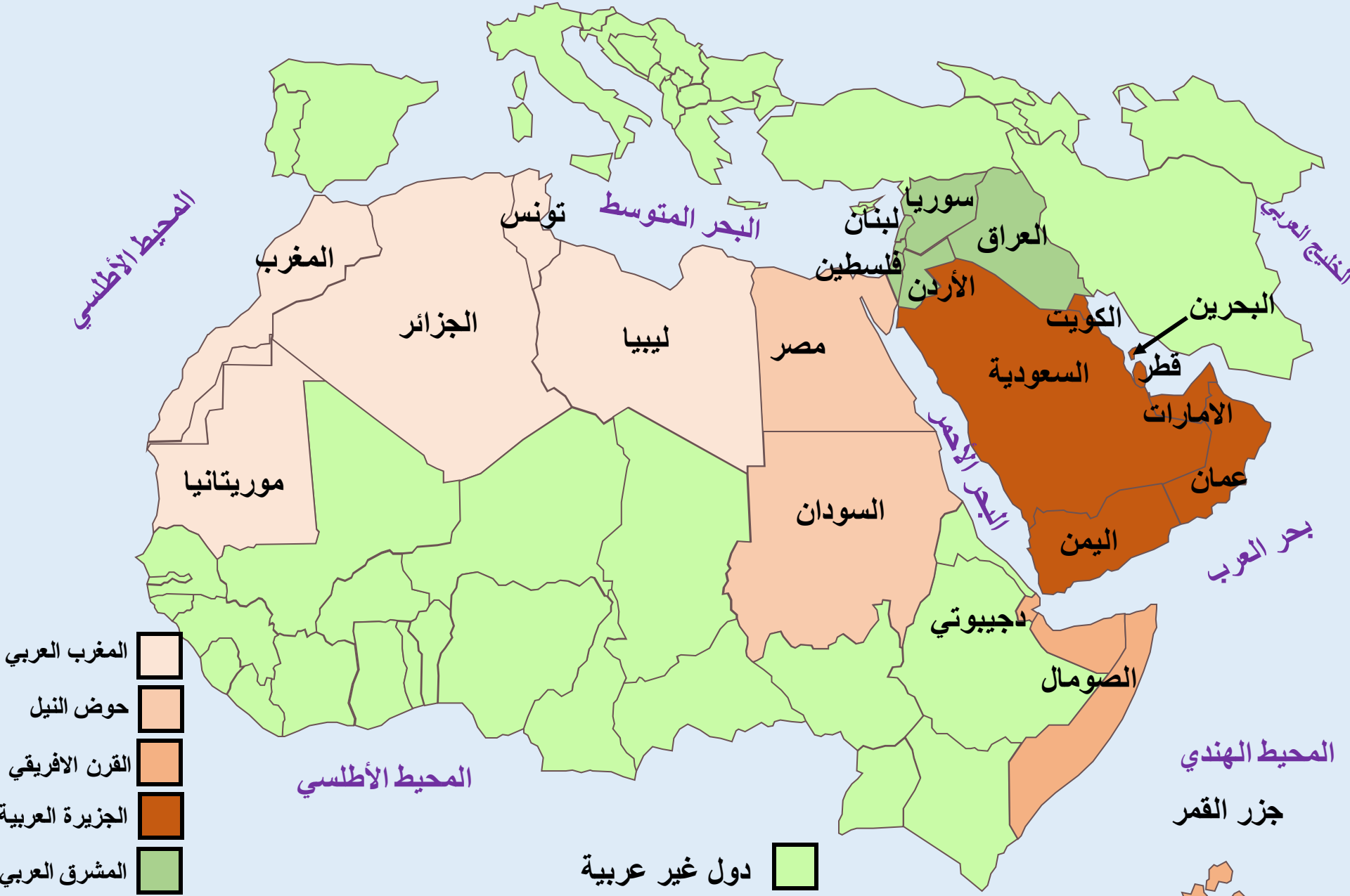
الموقع الفلكي :

تمتد أراضي العالم العربي ما بين درجتي طول 17 غرب غرينتش إلى 60 شرق غرينتش ، أما بالنسبة لدرجات العرض فتمتد أراضيه ما بين 2 درجة جنوب الاستواء إلى 38 درجة شماليه .

نشاط رقم (1) : أقرأ الخريطة، ذكراً أسماء كل من الدول العربية في مواقعها



الدول و الوحدات الطبيعية



دول المغرب العربي



دول وادي النيل



دول القرن الافريقي



دول المشرق العربي

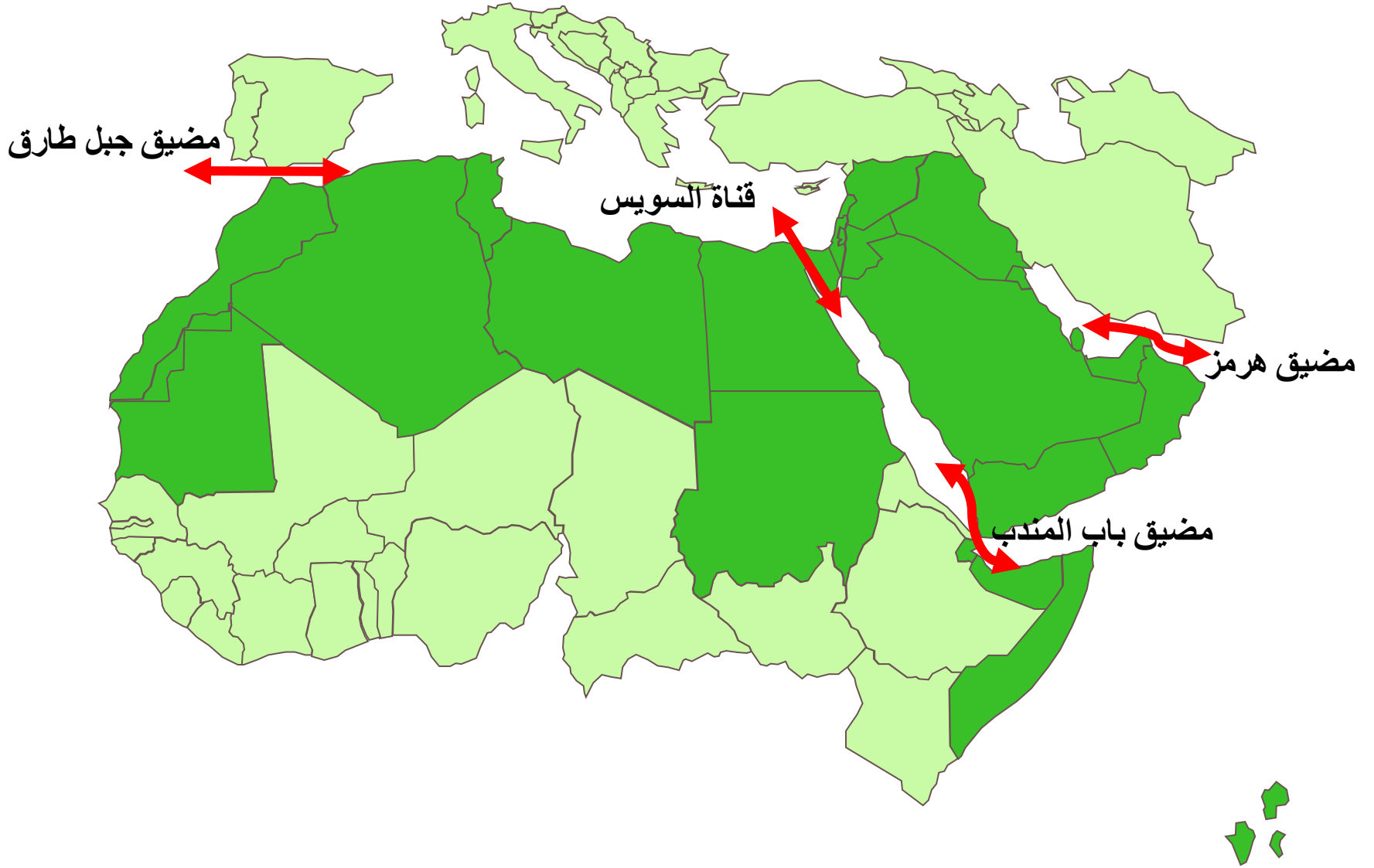


دول شبه الجزيرة العربية



أهمية موقع العالم العربي

✓ الاشراف على أهم الممرات المائية العالمية



مضيق هرمز



يمثل مضيق هرمز، الذي يعد أحد الممرات المائية في العالم وأكثرها حركة للسفن، أهمية استراتيجية واقتصادية وتجارية كبرى لدول الخليج العربي بصفة خاصة ودول الشرق الأوسط بصفة عامة، بل هو الرئة التي تتنفس من خلالها دول الخليج، بل المنفذ البحري الوحيد لعدة دول وهي "العراق - الكويت - البحرين - قطر - الإمارات العربية".

مضيق باب المندب




تكمُن أهمية مضيق باب المندب في أنه أحد أهم الممرات المائية في العالم وأكثرها احتضانًا للسفن، حيث يربط بين البحر الأحمر وخليج عدن، وتزيد أهميته بسبب ارتباطه بقناة السويس وممر مضيق هرمز.

قناة السويس



أهمية قناة السويس: تقع قناة السويس في قلب العالم، وتأتي القناة كأهم هذه الطرق الملاحية وأقصرها في الربط بين شرق العالم وغربه (إقليم غرب أوروبا الصناعي وما يحتاج من مواد خام لازمة للصناعة وإقليم جنوب شرق آسيا بما يحتويه من مواد خام وكبير حجم سوقه لكبر عدد سكانه)، وأكثرها توفيراً للنفقات.

قناة السويس



مضيق جبل طارق



تكمّن أهمية مضيق جبل طارق في أنه المعبر الرئيسي للسلع والخدمات القادمة من أوروبا ودول شمال أفريقيا عبر البحر الأبيض المتوسط نحو الأمريكيتين أمريكا الشمالية وأمريكا الجنوبية والعكس أيضا فهو الطريق الرئيسي لتوصيل السلع والخدمات من الأمريكيتين نحو شمال أفريقيا ودول أوروبا عبر المحيط الأطلسي وصولا للبحر الأبيض المتوسط

دولة الجزائر : أكبر الدول العربية , مساحتها 2400000 كلم مربع,
عدد سكانها 38 مليون نسمة



تشكل أجوائه محطه لعبور الطائرات بين عدد من القارات



الأهمية الاقتصادية لموقع العالم العربي :

- ازدهار النشاط التجاري لأشرف العالم العربي على مسطحات مائية عديدة.

- ازدهار السياحة المتعلقة بالتنوع الحضاري الأثار الناجمة عن عمران الشعوب لهذه المنطقة .

- ازدهار حركة الترانزيت بفعل الإشراف على أهم الممرات المائية في العالم (هرمز - باب المندب - السويس - جبل طارق).

- اشتغال العالم العربي على ثروات باطنية مهمة من مواد أولية و مصادر طاقة بفعل امتداد رقعة أراضيه .

الأهمية الاستراتيجية :

ترتب على موقع العالم العربي الواسطي أهمية سياسية و استراتيجية حيث أنه جسر عبور و أداة ربط بين أنحاء العالم ، و عليه ترتبت انعكاسات سلبية كان منها :

- تحول العالم العربي إلى محط أطماع الدول الكبرى للسيطرة على هذا الموقع الاستراتيجي.

- التنافس السلمي و العسكري على ثروات العالم العربي .

- التدخل العسكري المباشر الذي تخطى القوانين الخاصة بكل دولة .

- انفصال بعض الأجزاء من الدول العربية بتحريض من القوى الكبرى (جنوب السودان) .

تحديد الوقت من خلال خطوط الطول

• إذا كانت الساعة في بغداد 12 ظهرا والواقعة على خط طول 45 شرق غرينتش ، فكم تكون الساعة في الرباط والواقعة على خط طول 15 غرب غرينتش.

□ بما أن بغداد تقع شرق غرينتش ورباط غرب غرينتش ، نجمع خطوط الطول لتصبح النتيجة على الشكل التالي :

$$60 = 15 + 45 \text{ خط طول}$$

□ تحويل الفرق في خطوط الطول الى ساعات ودقائق :

نضرب الفرق في خطوط الطول ب 4 (دائما) . لتصبح النتيجة على الشكل التالي : $240 = 4 * 60$ دقيقة أي ما يساوي 4 ساعات.

□ بما أن الرباط تقع الى الغرب من بغداد ، نؤخر التوقيت 4 ساعات لتصبح الساعة في مدينة الرباط 8 صباحا.

• الساعة في طهران العاشرة صباحا الواقعة على خط طول 50 شرقا، فكم تكون الساعة في مكة المكرمة الواقعة على خط طول 40 شرقا ، علماً أن مكة المكرمة تقع الى الغرب من طهران .

❖ بما أن المدينتان تقعان شرق غرينتش، نطرح خطوط الطول لتصبح النتيجة على الشكل التالي : $10 = 40 - 50$ خط طول.

□ تحويل الفرق في خطوط الطول الى ساعات ودقائق :

نضرب الفرق في خطوط الطول ب 4 (دائماً) لتصبح النتيجة على الشكل التالي : $40 = 4 * 10$ دقيقة.

□ وبما أن مكة المكرمة تقع الى الغرب من طهران تصبح الساعة : $10 - 40$ دقيقة = 9.20 صباحا.